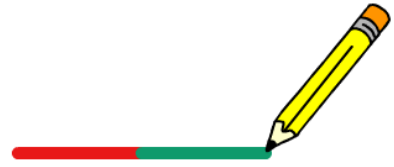



## Корњача графика - Понављање задаци 2 група

1. задатак: Напиши програм у скречу који исцртава линије у две боје, прва линија од 100 корака је црвена, а друга зелена.




2. задатак: Напиши програм у скречу који исцртава правоугаоник плаве боје, користи блок понови. Дужина страница правоугаоника је 150 и 50 корака а дебљина линије 5..



3. задатак: Напиши програм у скречу који исцртава туфне, користи блок понови. Величина туфни је 40 корака, размак је 50 корака



4. задатак: Напиши програм у скречу који исцртава троугао зелене боје, користи блок понови. Дужина странице троугла је 150 корака а дебљина линије 5.



5.

6. задатак: Напиши програм у скречу који исцртава степенице на горе, користи блок понови. Дужина цртица је 30 корака.

